

Erst kürzlich wurden die Uhren auf Sommerzeit umgestellt.




- ① Lies die Uhrzeiten ab und trage ein! (1. Tageshälfte / 2. Tageshälfte)




Uhr
Uhr



Uhr
Uhr



Uhr
Uhr




Uhr
Uhr



Uhr
Uhr


- ② Zeichne die Uhrzeiger ein und gib die Uhrzeit der anderen Tageshälfte an!




2.49 Uhr
Uhr



5.07 Uhr
Uhr



9.23 Uhr
Uhr



Uhr
16.38 Uhr




Uhr
23.17 Uhr


- ③ Zeichne die Uhrzeiger ein! Gib die Uhrzeiten auch in Kurzschreibweise an!




drei Minuten nach
halb 11 Uhr
Uhr




19 Minuten nach
20 Uhr
Uhr



8 Minuten vor
Mitternacht
Uhr



14 Minuten vor
6 Uhr
Uhr

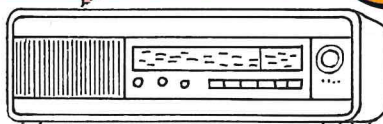


6 Minuten vor
halb 8 Uhr
Uhr

- ④ Ordne Zeitansagen und Uhrabbildungen passend zu!

Es ist 6.25 Uhr, 5 Minuten
vor halb sieben Uhr.

Es ist 4.30 Uhr,
halb fünf Uhr. Sie hören
die Musik am frühen
Morgen.



Es ist 18.55 Uhr, noch
5 Minuten bis 19 Uhr.



Das waren die Nachrichten.
Es ist jetzt 19.18 Uhr.



In wenigen Augenblicken ist es 23.53 Uhr,
noch sieben Minuten bis Mitternacht.