




Flächeninhalt von Figuren



Flächeninhalt: 6 Kästchen

Den **Flächeninhalt** einer Figur siehst du hier farbig.

Später lernst du die Einheit cm^2 kennen.


Wir verwenden als Einheit „Kästchen“ oder „Dreiecke“.

① Fülle die Tabelle aus!



| | | | | | | | | | |
|---|---|--|--|---|--|---|---|--|---|
| 1 | | | | | | | | | 2 |
| | | | | | | | | | |
| | 3 | | | 4 | | | 5 | | |
| | | | | | | | | | |
| | | | | | | 7 | | | |
| 6 | | | | | | | | | |
| | | | | | | | | | |

| Figur | Flächeninhalt (in Kästchen) |
|-------|---|
| 1 | 7 |
| 2 | <input type="text"/> <input type="text"/> |
| 3 | <input type="text"/> <input type="text"/> |
| 4 | <input type="text"/> <input type="text"/> |
| 5 | <input type="text"/> <input type="text"/> |
| 6 | <input type="text"/> <input type="text"/> |
| 7 | <input type="text"/> <input type="text"/> |

② Zeichne eigene Figuren mit demselben Flächeninhalt!



=



=

